



La cinématique des mécanismes



Référence S03 - TP02 - I02

Compétences B2-10: Déterminer les caractéristiques d'un solide ou d'un ensemble de solides indéformables.
B2-11: Intégrer ou modifier une pièce dans un assemblage à l'aide d'un modèleur volumique 3D.
B2-14: Modéliser la cinématique d'un ensemble de solides.
C1-04: Proposer une démarche permettant d'obtenir une loi entrée-sortie géométrique.
C2-05: Caractériser le mouvement d'un repère par rapport à un autre repère.
C2-06: Déterminer les relations entre les grandeurs géométriques ou cinématiques.
C3-01: Mener une simulation numérique.
C3-02: Résoudre numériquement une équation ou un système d'équations.
E1-05: Lire et décoder un document technique.
E2-01: Choisir un outil de communication adapté à l'interlocuteur.

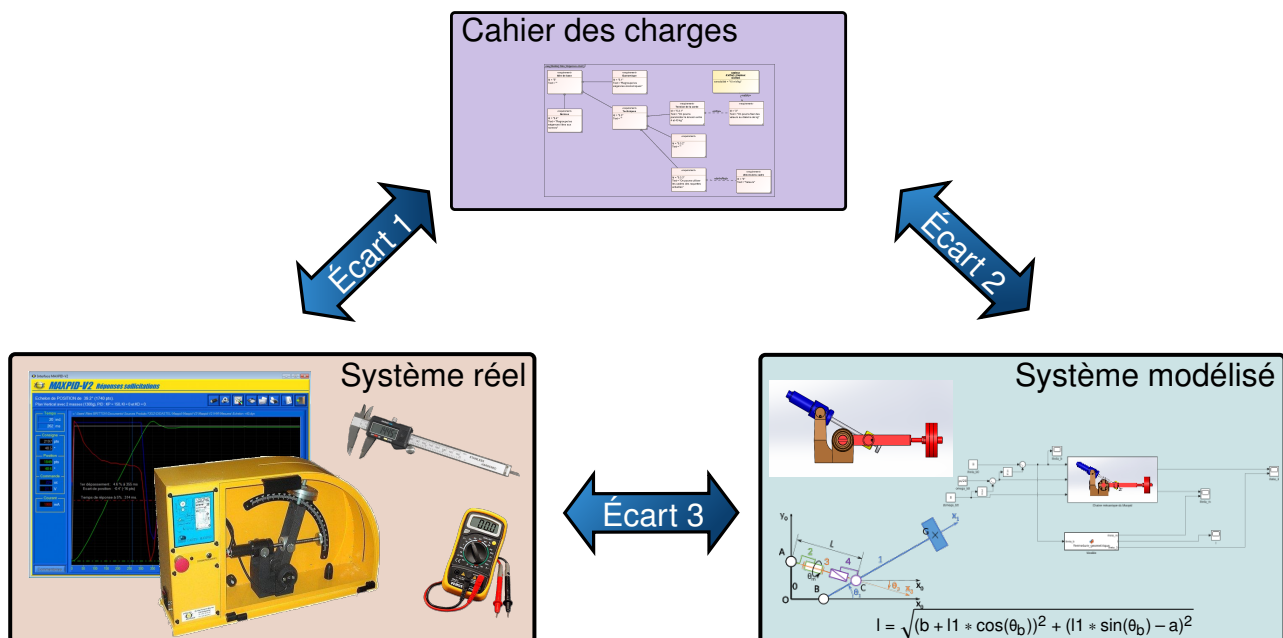
Description Lois E/S de fermeture géométrique et cinématique. Simulation du comportement de modèles. Proposer des lois de commande en fonction d'exigences. Présenter les modèles acausaux

Système Barrière Sympact



Objectif du TP:

Modéliser la loi d'entrée/sortie cinématique d'un système



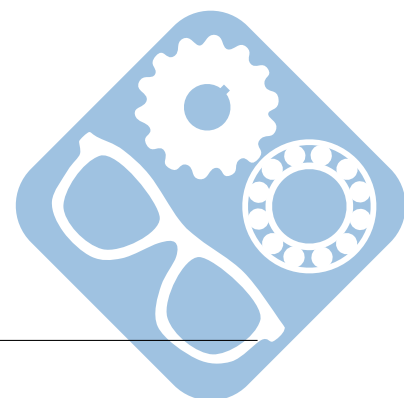
La démarche de l'ingénieur permet :

- De vérifier les performances attendues d'un système, par évaluation de l'écart entre un cahier des charges et les réponses expérimentales (écart 1),
- De proposer et de valider des modèles d'un système à partir d'essais, par évaluation de l'écart entre les performances mesurées et les performances simulées (écart 2),
- De prévoir le comportement à partir de modélisations, par l'évaluation de l'écart entre les performances simulées et les performances attendues du cahier des charges (écart 3).



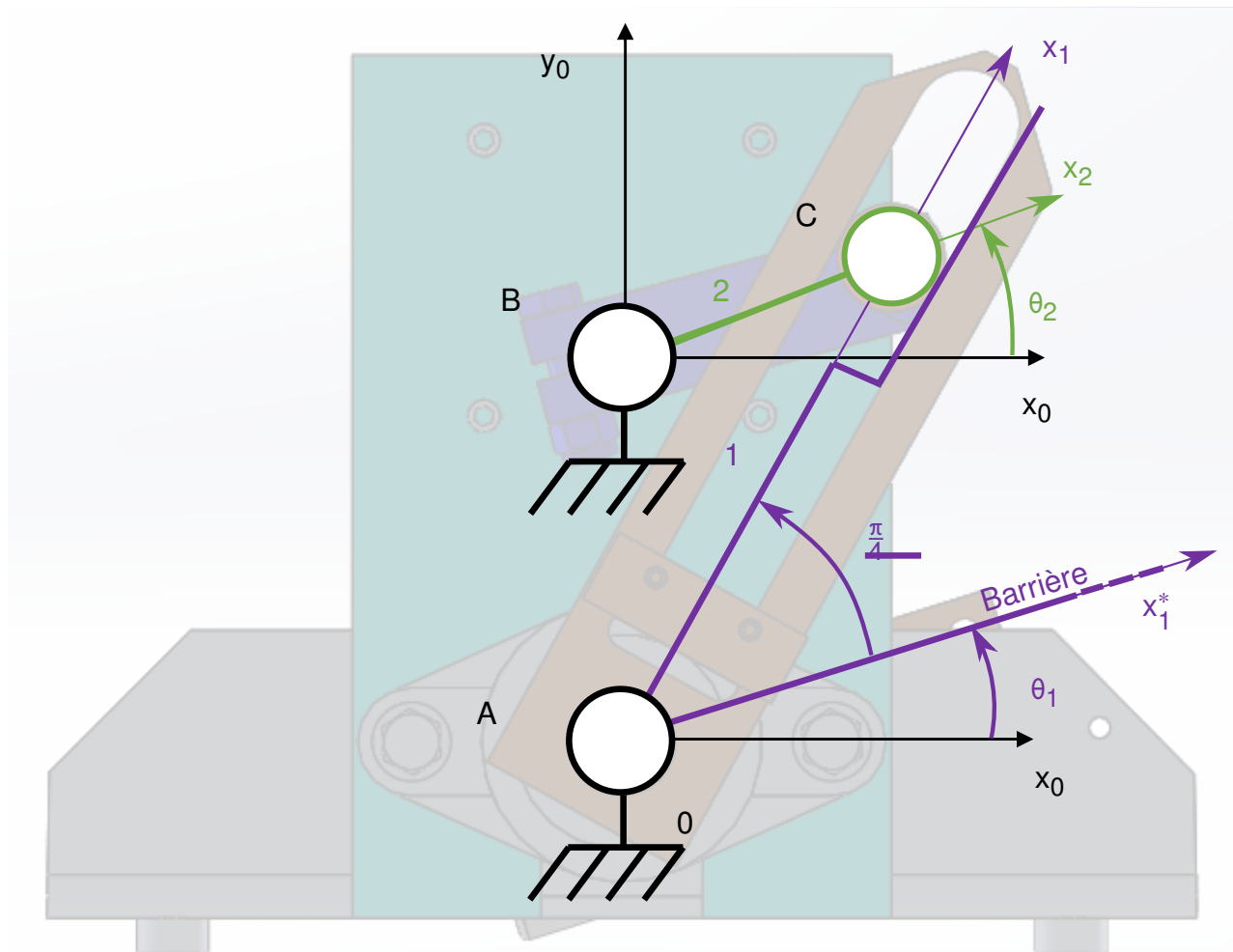
Pour ce TP, vous aurez à votre disposition les documents suivants :

- La Mise en oeuvre du système,
- de la procédure d'utilisation de Simscape disponible à la page 6,
- Les divers documents des système.



1 Détermination de la loi d'entrée/sortie géométrique

L'objectif de cette partie est de déterminer les équations liant les paramètres géométriques du système Barrière Sympactet de les comparer avec celles obtenues par simulation Matlab/Simscape.



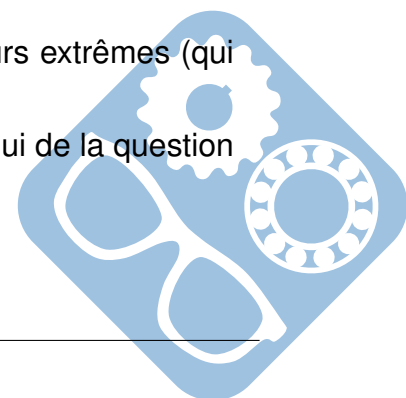
Question 1 Déterminer θ_2 en fonction de θ_1 et des dimensions géométriques du système en utilisant la loi de fermeture géométrique. Les dimensions seront mesurées sur le système.
Modéliser

Question 2 Compléter le modèle Simscape avec ces équation comme sur la procédure 6 et vérifier que les résultats correspondent.
Résoudre

Question 3 A l'aide d'un script python, faire varier θ_1 de 0 à $\frac{\pi}{2}$. Et tracer θ_2 .
Résoudre

Question 4 Proposer un protocole permettant de mesurer les valeurs extrêmes (qui correspondent à la variation de θ_1 de 0 à $\frac{\pi}{2}$) de θ_2 .
Expérimenter

Question 5 Vérifier que le résultat de la question 2 correspond à celui de la question 3.
Analyser



2 Détermination de la loi d'entrée/sortie cinématique

L'objectif de cette partie est de déterminer les équations liant les paramètres cinématiques du système Barrière Sympactet de les comparer avec celles obtenues par simulation Matlab/Simscape.

On aura ainsi :

- $\omega_1 = \dot{\theta}_1$,
- $\omega_2 = \dot{\theta}_2$.

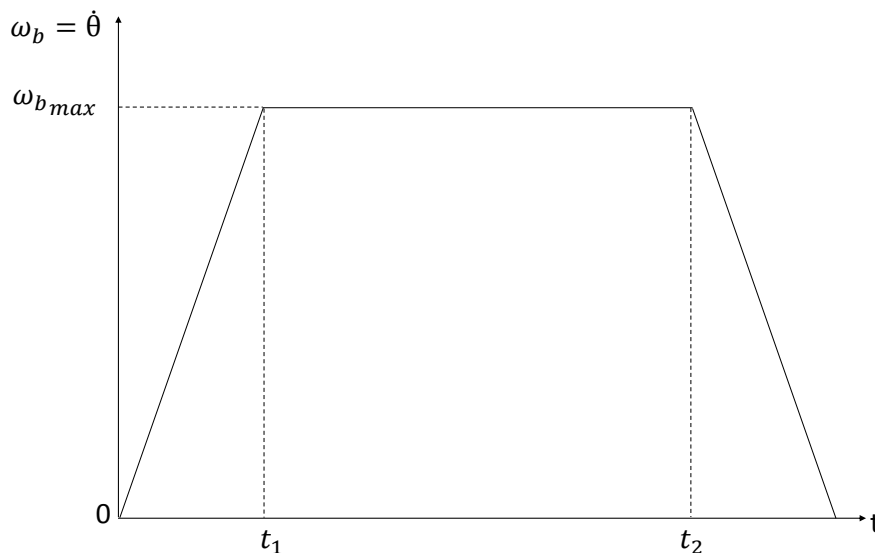
Question 6 Déterminer ω_2 en fonction de ω_1 et des paramètres géométriques du système, en utilisant la loi de fermeture cinématique. Les dimensions seront mesurées sur le système afin d'effectuer l'application numérique.

Modéliser

Question 7 Compléter le modèle Simscape avec ces équations comme sur la procédure 6 et vérifier que les résultats correspondent.

Résoudre

L'objectif est d'obtenir le profil suivant pour la vitesse de rotation ω_1 .



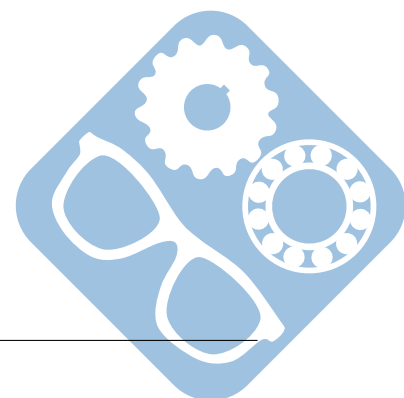
Données : $t_1 = 2\text{s}$, $t_2 = 8\text{s}$, $t_3 = 10\text{s}$.

Question 8 Déterminer ω_{\max} afin d'obtenir la variation de θ_1 de 0 à $\frac{\pi}{2}$.

Modéliser

Question 9 A l'aide d'un script python, déterminer le profil de vitesse à imposer à ω_m .

Modéliser



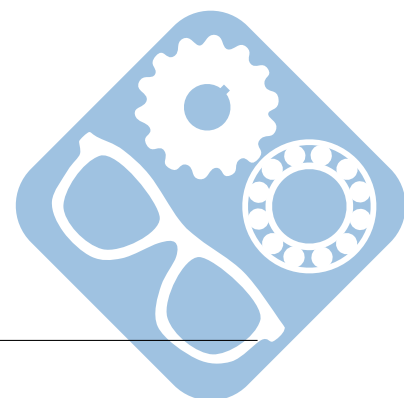
3 Vérification à l'aide de relevé expérimentaux

Le fichier contient des relevés expérimentaux issus du système réel.

- Question 10** Ouvrir l'ensemble des fichiers présents dans le dossier compressé et analyser leur contenu.
Expérimenter
- Question 11** Expliquer en quelques lignes le protocole expérimental mis en œuvre.
Expérimenter
- Question 12** Déterminer les écarts (et leurs origines) entre les résultats des la simulation (parties 1 et 2) et ceux issus de la partie expérimentale.
Expérimenter

4 Préparation d'une présentation

- Question 13** Préparer une présentation à l'aide de quelques slides pour présenter votre travail.
Communiquer



Utilisation de Matlab Simscape


La procédure suivante explique comment utiliser Matlab afin de simuler un modèle Simscape.

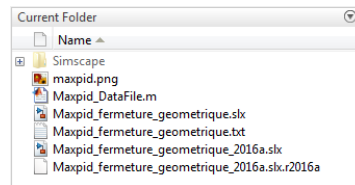
Ce modèle a été construit à partir des pièces, assemblages et contraintes d'un modèle Solidworks. Ce dernier n'est pourtant pas nécessaire pour le faire tourner.

Procédure :

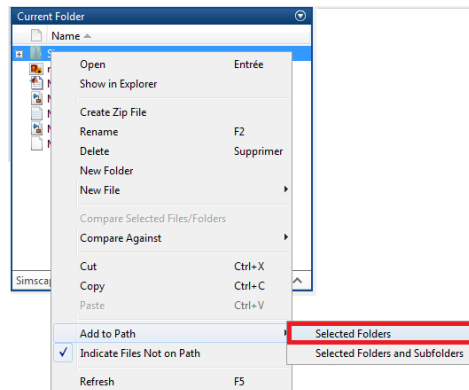
— Dézipper l'archive à télécharger [Modèle Simscape](#),

— Lancer Matlab  MATLAB R2016b

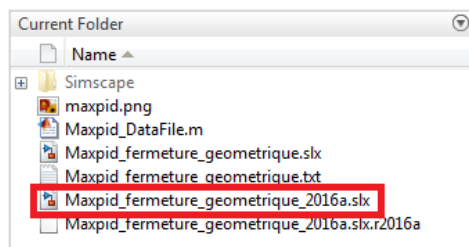
— Depuis Matlab, naviguer  dans le dossier dézippé jusqu'au dossier contenant les fichiers « .slx » et « Simscape » ,



— Faire un clic-droit sur le dossier « Simscape » et cliquer sur « Add to Path » ,



— Double-cliquer sur le fichier correspondant au TP et à la version de Matlab utilisée, il doit avoir une extension en « slx » .

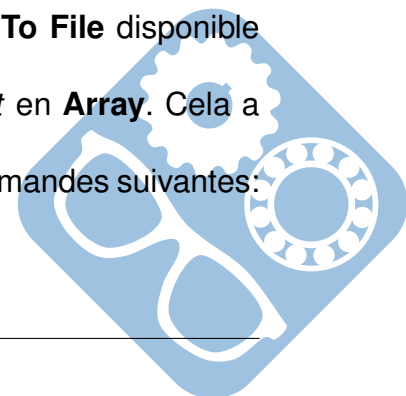


— Afin d'exporter des données, il est nécessaire d'insérer un bloc **To File** disponible dans la section *Sinks* et de le connecter à la donnée à extraire,

— Double-cliquer dessus afin de modifier le paramètre *Save format* en **Array**. Cela a pour effet de créer un fichier *fichier.mat*,

— Celui-ci peut être convertit en fichier *fichier.csv* en utilisant les commandes suivantes:

```
FileData = load('fichier.mat');
csvwrite('fichier.csv', FileData.ans);
```



5 Correction

5.1 Fermeture géométrique

$$\begin{aligned} \overrightarrow{OB} + \overrightarrow{BC} + \overrightarrow{CA} + \overrightarrow{AO} &= \vec{0} \\ \begin{cases} b + l_1 \cdot \cos\theta_1 - l(t) \cdot \cos\theta_3 = 0 \\ l_1 \cdot \sin\theta_1 - l(t) \cdot \sin\theta_3 - a = 0 \end{cases} \end{aligned}$$

$$l(t) = l_0 + \frac{p \cdot \theta_m}{2 \cdot \pi}$$

$$\begin{cases} l(t) \cdot \cos\theta_3 = b + l_1 \cdot \cos\theta_1 \\ l(t) \cdot \sin\theta_3 = l_1 \cdot \sin\theta_1 - a \end{cases}$$

Donc, $l(t) = \sqrt{(b + l_1 \cdot \cos\theta_1)^2 + (l_1 \cdot \sin\theta_1 - a)^2}$ et $\theta_m = (l(t) - l_0) \cdot \frac{2 \cdot \pi}{p}$.

Et $\theta_3 = \frac{b + l_1 \cdot \cos\theta_1}{l(t)}$

5.2 Fermeture cinématique

$$\{V_{1/0}\} = \begin{Bmatrix} 0 & 0 \\ 0 & 0 \\ \omega_b & 0 \end{Bmatrix}_B = \begin{Bmatrix} 0 & 0 \\ 0 & l_1 \cdot \omega_b \\ \omega_b & 0 \end{Bmatrix}_{C,R_1} = \begin{Bmatrix} 0 & -\sin(\theta_1) \cdot l_1 \cdot \omega_b \\ 0 & \cos(\theta_1) \cdot l_1 \cdot \omega_b \\ \omega_b & 0 \end{Bmatrix}_{C,R_0}$$

$$\{V_{1/0}\} = \begin{Bmatrix} 0 & \frac{p \cdot \omega_m}{2 \cdot \pi} \\ 0 & 0 \\ 0 & 0 \end{Bmatrix}_{C,R_3} = \begin{Bmatrix} 0 & \cos(\theta_3) \cdot \frac{p \cdot \omega_m}{2 \cdot \pi} \\ 0 & \sin(\theta_3) \cdot \frac{p \cdot \omega_m}{2 \cdot \pi} \\ 0 & 0 \end{Bmatrix}_{C,R_0}$$

Donc, $\begin{cases} -\sin(\theta_1) \cdot l_1 \cdot \omega_b = \cos(\theta_3) \cdot \frac{p \cdot \omega_m}{2 \cdot \pi} \\ \cos(\theta_1) \cdot l_1 \cdot \omega_b = \sin(\theta_3) \cdot \frac{p \cdot \omega_m}{2 \cdot \pi} \end{cases}$

Donc, $\omega_m = \frac{2 \cdot \pi}{p} \cdot \frac{-\sin(\theta_1) \cdot l_1}{\cos(\theta_3)} \cdot \omega_b$

